



Ce document a été mis en ligne par l'organisme [FormaV](#)®

Toute reproduction, représentation ou diffusion, même partielle, sans autorisation préalable, est strictement interdite.

Pour en savoir plus sur nos formations disponibles, veuillez visiter :

www.formav.co/explorer

Remplissez
très lisiblement
le talon ci-dessous.

NOM: _____

Prénoms: _____

N° D'INSCRIPTION
OU DE TABLE

CENTRE D'EXAMEN: _____

BREVET PROFESSIONNEL CHARPENTIER

Session 2006

EPREUVE MATHÉMATIQUES ET SCIENTIFIQUE

Durée : 2h00

Coef : 2

Première partie : **Mathématiques (20 points)**
Deuxième partie : **Sciences Physiques (20 points)**

Ce sujet comporte 7 pages.
L'usage de la calculatrice est autorisé.

BREVET PROFESSIONNEL CHARPENTIER		
SESSION 2006	Durée : 2h00	Coef. : 2
Epreuve : Etude mathématiques et scientifique		Page 1 sur 7

Première partie : MATHEMATIQUES (20 points)

EXERCICE 1 : Géométrie (12 points)

Ci-contre le schéma géométrique d'une ferme à entrain retroussé.

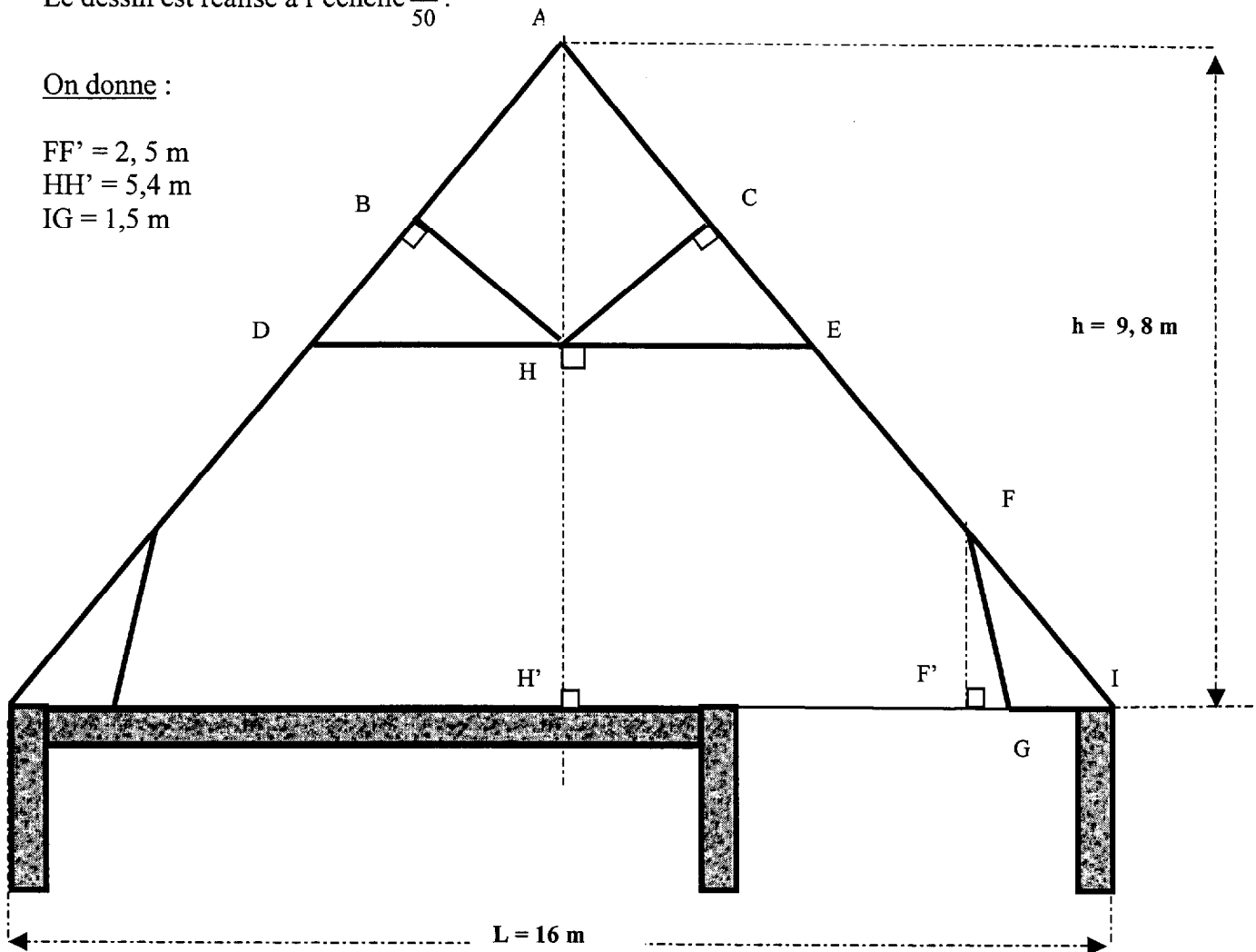
Le dessin est réalisé à l'échelle $\frac{1}{50}$.

On donne :

$$FF' = 2,5 \text{ m}$$

$$HH' = 5,4 \text{ m}$$

$$IG = 1,5 \text{ m}$$



Toutes les longueurs seront arrondis au centimètre

1°) Dans le triangle AH'I,

- Calculer la longueur H'I.
- Calculer la longueur de l'arbalétrier AI
- Calculer la pente en pourcentage de l'arêtier AI par rapport à l'horizontale (arrondir à l'unité). En déduire la mesure de $\widehat{AIH'}$ en degré (arrondir à l'unité)

BREVET PROFESSIONNEL CHARPENTIER		
SESSION 2006	Durée : 2h00	Coef. : 2
Epreuve : Etude mathématiques et scientifique		Page 2 sur 7

2°) Calculer la longueur AH

3°) a) En utilisant le théorème de Thalès, calculer la longueur HE.

b) En déduire la longueur de l'entrait retroussé DE

4°) Le triangle HCE est rectangle en C, $\widehat{HEC} = 51^\circ$ et $HE = 3,6$ m.

Calculer la mesure de la contrefiche HC.

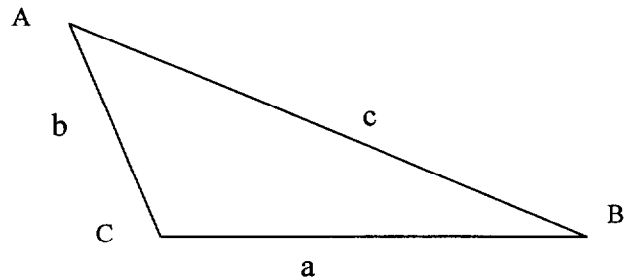
5°) On considère le triangle IFF'. On donne $\widehat{I} = 51^\circ$ et $FF' = 2,6$ m

Calculer la longueur IF

6°) Dans le triangle IFG, sachant que $IG = 1,5$ m, $IF = 3,34$ m et $\widehat{I} = 51^\circ$, calculer la longueur de la jambe de force GF.

Rappel :

$$a^2 = b^2 + c^2 - 2bc \cdot \cos \hat{A}$$




BREVET PROFESSIONNEL CHARPENTIER		
SESSION 2006	Durée : 2h00	Coef. : 2
Epreuve : Etude mathématiques et scientifique		Page 3 sur 7

EXERCICE 2 : Statistiques (8 points)

Dans une entreprise, la répartition des salaires des 25 salariés est la suivante :

Salaires en €	Effectifs des salariés n_i	Fréquence en %	Effectif cumulé croissant	Centre des classes x_i	Le produit $n_i \cdot x_i$
[1 300 ; 1 400 [2			1350	2700
[1 400 ; 1 500 [12			
[1500 ; 1600 [11		
[1 600 ; 1 700 [9				
[1 700 ; 1 800 [5				
Total	N = 25	100			

- Compléter le tableau statistique ci-dessus.
- Calculer le salaire moyen.
.....
.....
.....
- Construire le polygone des effectifs cumulés croissants dans le repère ci-contre :
Graduer l'axe des abscisses à partir de 1200.
Echelle : - Abscisse : 1 cm pour 100 €
- Ordonnée : 1 cm pour 2 salariés.
- Déterminer combien de salariés gagnent au moins 1 600 € ?
.....
.....
- Calculer le pourcentage de salariés qui gagnent moins de 1 700 €.
.....



.....

Deuxième partie : SCIENCES PHYSIQUES (20 points)

EXERCICE 3 : Energie solaire. (12 points)

$1 \text{ Wh} = 3600 \text{ J}$

On souhaite installer, sur la surface du toit de la maison, 8 panneaux solaires de 1,4 m de longueur et 0,65 m de largeur.

Le rayonnement solaire apporte en moyenne $250 \text{ W} / \text{m}^2$.

1. Calculer l'aire totale des panneaux.
2. Calculer la puissance captée par l'ensemble des panneaux.
3. En déduire l'énergie captée après 10 heures d'éclairement.
4. Sachant que le rendement de conversion est de 30 %, calculer en kWh l'énergie électrique produite. (Arrondir au centième).

230 V monophasé - 1 630 W Capacité 150 L -

Cette énergie alimente un chauffe-eau électrique dont les caractéristiques sont les suivantes :

5. Donnez les significations de 230 V - 1 630 W
6. Calculer
 - a. L'intensité, en ampères, du courant électrique nécessaire au fonctionnement du chauffe-eau ; arrondir à l'unité.
 - b. La résistance électrique de l'élément chauffant ; arrondir à l'unité.
7. A la mise en service, le temps de chauffage pour élever la température de l'eau de 15°C à 60°C est de 7 h.
Calculer, en kWh, l'énergie absorbée par le chauffe-eau.

BREVET PROFESSIONNEL CHARPENTIER		
SESSION 2006	Durée : 2h00	Coef. : 2
Epreuve : Etude mathématiques et scientifique		Page 5 sur 7

8. Le panneau solaire suffit-il pour fournir cette énergie électrique ?

Formules :

$$E = P \times t \quad \eta = \frac{E_{\text{utile}}}{E_{\text{absorbée}}}$$

EXERCICE 6 : Chimie (8 points)

Masses molaires atomiques.

$M(\text{H}) = 1 \text{ g/mol}$; $M(\text{C}) = 12 \text{ g/mol}$; $M(\text{Cl}) = 35,5 \text{ g/mol}$; $M(\text{N}) = 14 \text{ g/mol}$;
 $M(\text{O}) = 16 \text{ g/mol}$.

Pour entretenir et préserver les charpentes, on utilise un produit « le Xylophène », renfermant la cyperméthrine de formule chimique : $\text{C}_{22}\text{H}_{19}\text{Cl}_2\text{NO}_3$.

Dans l'étiquette, on a relevé l'information suivante.

Pictogrammes



Nocif (Xn)



Dangereux pour
l'environnement

R20/22 Nocif par inhalation et par ingestion

R37 Irritant pour les voies respiratoires

R50/53 Très toxique pour les organismes aquatiques,
peut entraîner des effets néfastes à long terme pour l'environnement
aquatique

S2 Conserver hors de la portée des enfants

S24 Eviter le contact avec la peau

S36/37/39 Porter un vêtement de protection approprié,
des gants et un appareil de protection des yeux / du visage

S60 Eliminer le produit et son récipient comme un déchet dangereux

S61 Eviter le rejet dans l'environnement.

Consulter les instructions spéciales/ la fiche de données de sécurité

BREVET PROFESSIONNEL CHARPENTIER

SESSION 2006

Durée : 2h00

Coef. : 2

Epreuve : Etude mathématiques et scientifique

Page 6 sur 7

Copyright © 2026 FormaV. Tous droits réservés.

Ce document a été élaboré par FormaV® avec le plus grand soin afin d'accompagner chaque apprenant vers la réussite de ses examens. Son contenu (textes, graphiques, méthodologies, tableaux, exercices, concepts, mises en forme) constitue une œuvre protégée par le droit d'auteur.

Toute copie, partage, reproduction, diffusion ou mise à disposition, même partielle, gratuite ou payante, est strictement interdite sans accord préalable et écrit de FormaV®, conformément aux articles L.111-1 et suivants du Code de la propriété intellectuelle. Dans une logique anti-plagiat, FormaV® se réserve le droit de vérifier toute utilisation illicite, y compris sur les plateformes en ligne ou sites tiers.

En utilisant ce document, vous vous engagez à respecter ces règles et à préserver l'intégrité du travail fourni. La consultation de ce document est strictement personnelle.

Merci de respecter le travail accompli afin de permettre la création continue de ressources pédagogiques fiables et accessibles.